

نام و نام خانوادگی:

شماره پست:

کلاس: هتم /

بسم تعالی
دبیرستان آتف



آزمون ریاض نوبت اول

زمان: دقیقه

تاریخ: ۹۵/۱۰/۱۴

۱. از کدام یک از حافظه‌های جانبی زیر امروزه کمتر استفاده می‌شود؟

- ۱ (فلاپی دیسک ۲ (هارددیسک ۳ (CD ۴ (DVD)

۲. کدام یک از عبارات زیر در رابطه با مقایسه‌ی فلاپی دیسک و هارددیسک صحیح است؟

- ۱ (ظرفیت آن‌ها با یکدیگر برابر است. ۲ (ظرفیت فلاپی دیسک بیشتر از هارددیسک است.
۳ (ظرفیت هارد دیسک بیشتر از فلاپی دیسک است. ۴ (ظرفیت بیشتر، به نوع فلاپی دیسک و هارددیسک بستگی دارد.

۳. با استفاده از کدام یک از گزینه‌های زیر اطلاعات در حافظه‌های جانبی CD و DVD نوشته می‌شود؟

- ۱ (مغناطیس ۲ (اشعه‌ی لیزر ۳ (جریان الکتریسته ۴ (هیچکدام)

۴. ظرفیت یک CD حدوداً چقدر است؟

- ۱ (۱,۴۴ MB ۲ (۵۰۰ GB ۳ (۱۰۰ KB ۴ (۷۰۰ MB)

۵. ظرفیت کدام یک از حافظه‌های جانبی زیر حدود ۴,۷GB است؟

- ۱ (CD ۲ (DVD ۳ (Blue Ray ۴ (فلاپی دیسک)

۶. در کدام یک از گزینه‌های زیر انواع حافظه‌های جانبی نوری به ترتیب صحیح از نظر ظرفیت قرار گرفته‌اند؟

- ۱ (DVD < CD < Blue Ray ۲ (CD < DVD < Blue Ray
۳ (CD < Blue Ray < DVD ۴ (DVD < Blue Ray < CD)

۷. در کدام یک از انواع حافظه‌های جانبی زیر از جریان الکتریسته برای خواندن و نوشتن اطلاعات استفاده می‌شود؟

- ۱ (حافظه‌های مغناطیسی ۲ (حافظه‌های نوری ۳ (حافظه‌های Flash ۴ (تمام موارد صحیح است.

۸. کدام یک از گزینه‌های زیر یک دستگاه ورودی به‌شمار نمی‌آید؟

- ۱ (Keyboard ۲ (Printer ۳ (میکروفون ۴ (Mouse)

۹. در سمت راست صفحه‌ی کلید قسمتی وجود دارد مشابه کلیدهای ماشین حساب که معمولاً از آن برای وارد کردن اعداد استفاده می‌شود. اما در بعضی مواقع فشار این کلیدها بجای وارد کردن اعداد به کامپیوتر، باعث جابجایی مکان‌نما می‌شود. علت این امر چیست؟

- ۱ (کامپیوتر ویروسی شده است. ۲ (اتصال صفحه کلید به کامپیوتر اشکال دارد.
۳ (در این حالت کلید Num Lock خاموش است. ۴ (تمام موارد فوق صحیح است.

۱۰. با استفاده از کدام یک از کلیدهای زیر می‌توان از صفحه‌ی نمایش یک عکس تهیه نمود؟

Esc (۴

Num Lock (۳

Print Screen (۲

Caps Lock (۱

۱۱. کدام یک از عبارات زیر تعریف مناسبی برای عمل Right Click است؟

۱ (فشردن و رها کردن کلید سمت چپ موس

۲ (دو بار انجام عمل Click در فاصله زمانی کم

۳ (فشردن و رها کردن کلید سمت راست موس

۴ (فشردن کلید سمت چپ، حرکت دادن موس و رها کردن کلید

۱۲. کدام یک از عبارات زیر تعریف مناسبی برای عمل Special Dragging است؟

۱ (فشردن و رها کردن کلید سمت چپ موس

۲ (دو بار انجام عمل Click در فاصله زمانی کم

۳ (فشردن و رها کردن کلید سمت راست موس

۴ (فشردن کلید سمت راست، حرکت دادن موس و رها کردن کلید

۱۳. کدام یک از دستگاه‌های ورودی زیر حرکت دست کاربر را به کامپیوتر وارد می‌کند؟


۴ (تمام موارد صحیح است.

۳ (قلم نوری

۲ (Touchpad

۱ (Mouse

۱۴. بر روی کالاهای موجود در فروشگاه‌ها علامتی مشابه شکل مقابل وجود دارد که قیمت و مشخصات کالا را مشخص می‌نماید. دستگاهی که این علامت را می‌خواند و قیمت کالا را مشخص می‌کند، چه نام دارد؟



۴ (Touchpad

۳ (Scanner

۲ (Light Pen

۱ (Joystic

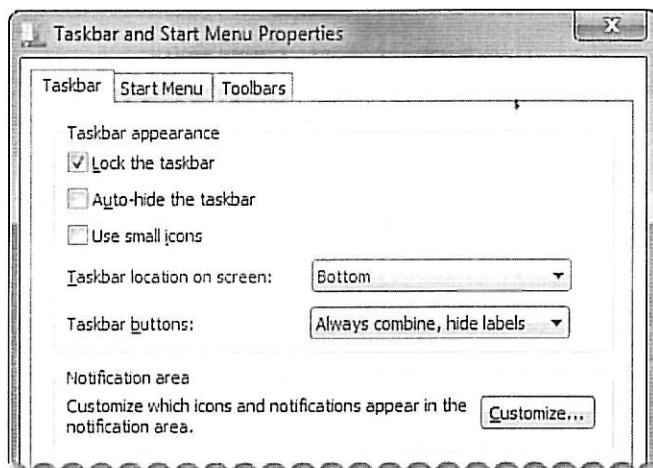
۱۵. با توجه به تنظیمات تعیین شده برای Taskbar در شکل مقابل کدام یک از گزینه‌ها غلط است؟

۱ (با Drag نمودن Taskbar، می‌توان محل آن را در Desktop تغییر داد.

۲ (با استفاده از موس امکان تغییر ابعاد Taskbar وجود ندارد.

۳ (Taskbar در پایین Desktop قرار دارد.

۴ (در صورت باز نمودن چند برنامه در Desktop، برای برنامه‌های مشابه تنها یک کلید در Taskbar ظاهر می‌شود حتی اگر در Taskbar فضای خالی موجود باشد.



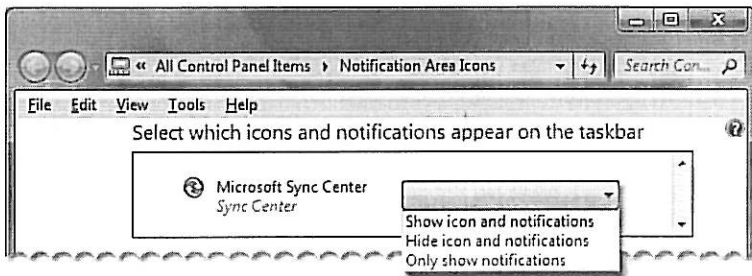
۱۶. کدام یک از گزینه‌های زیر روش صحیحی برای Pin کردن یک برنامه در Taskbar است؟

- ۱) Drag نمودن برنامه از Start Menu بر روی Taskbar که باعث ظاهر شدن عبارت Pin to taskbar می‌شود.
- ۲) انتخاب گزینه Pin to Taskbar از Context منوی برنامه مورد نظر.
- ۳) استفاده از دستور Copy از Context منوی برنامه و Paste نمودن برنامه در Taskbar
- ۴) گزینه‌های ۱ و ۲ صحیح است.

۱۷. تعدادی از آیکن‌های موجود در Notification area از نوع آیکن‌های System هستند که نحوه حذف و اضافه کردن آنها با سایر آیکن‌ها متفاوت است. کدام یک از گزینه‌های زیر از آیکن‌های System به شمار نمی‌آید؟

- ۱) Usb (آیکن USB)
- ۲) Power (آیکن Power)
- ۳) Volume (آیکن Volume)
- ۴) Clock (آیکن Clock)

۱۸. در کادر محاوره‌ای Notification area در مقابل هر آیکن مطابق شکل یک منوی باز شونده وجود دارد که از طریق آن می‌توان نحوه ظاهر شدن آیکن را در این قسمت مشخص نمود. در صورتی که بخواهیم یک آیکن در این قسمت به صورت دائمی نشان داده شود و پیغام‌های آن نیز ظاهر شود، کدام یک از گزینه‌های موجود را می‌توان انتخاب نمود؟



- ۱) Show icon and notification
- ۲) Hide icon and notification
- ۳) Only show notifications
- ۴) برای این حالت گزینه‌ای در این منو وجود ندارد.

۱۹. کدام یک از گزینه‌های زیر از پسوندهای فایل‌های متنی به شمار نمی‌آید؟

- ۱) doc یا docx
- ۲) rtf
- ۳) xls
- ۴) txt

۲۰. از طریق کدام یک از گزینه‌های زیر در نرم افزار Word Pad می‌توان واحد اندازه‌گیری خط‌کش را تغییر داد؟

- ۱) WordPad Button
- ۲) برگه View
- ۳) برگه Home
- ۴) گزینه ۱ و ۲

۲۱. در صورتی که سندی که شامل سه صفحه متن است در اختیار داشته باشیم و مکان‌نما در سطر پنجم از صفحه دوم آن قرار گرفته باشد، فشار کلید End چه عملی انجام خواهد داد؟

- ۱) مکان‌نما به انتهای سطر جاری منتقل می‌شود.
- ۲) مکان‌نما به انتهای سطر آخر در صفحه سوم منتقل می‌شود.
- ۳) مکان‌نما به انتهای سطر آخر در صفحه دوم منتقل می‌شود.
- ۴) مکان‌نما به انتهای جمله‌ای که در آن قرار دارد منتقل می‌شود.

۲۲. جهت انتخاب متن از محل مکان‌نما تا ابتدای پرونده در برنامه WordPad استفاده از کدام کلید لازم نیست؟

- ۱) Shift
- ۲) Alt
- ۳) Ctrl
- ۴) Home

۲۳. استفاده از کلیدهای "Shift+ End" در برنامه WordPad منجر به کدام یک از گزینه‌های زیر خواهد شد؟

- ۱) انتخاب از محل مکان‌نما تا انتهای سطر
- ۲) انتخاب از محل مکان‌نما تا انتهای جمله
- ۳) انتخاب از محل مکان‌نما تا انتهای پاراگراف
- ۴) انتخاب از محل مکان‌نما تا انتهای سند

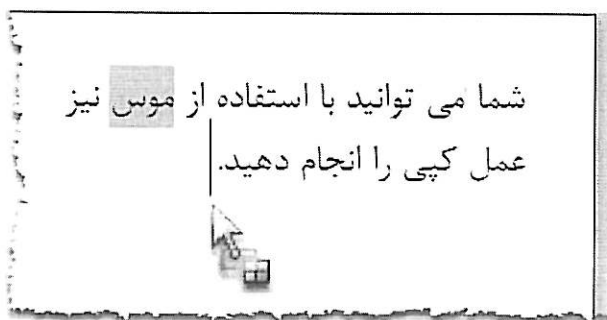
۲۴. در صورتی که در داخل نرم افزار WordPad و بر روی متن موجود در سند با استفاده از موس دو بار عمل Click را در فاصله زمانی کم انجام دهیم، چه قسمتی از متن انتخاب یا Select می شود؟
 (۱) یک جمله از متن (۲) یک کلمه از متن (۳) یک پاراگراف از متن (۴) یک صفحه از متن

۲۵. برای انتخاب کلمات غیر مجاور با استفاده از موس، پایین نگهداشتن کدام کلید لازم است؟
 Caps Lock (۴) Ctrl (۳) Alt (۲) Shift (۱)

۲۶. عملیات زیر مراحل لازم برای کپی نمودن قسمتی از متن موجود در یک سند را در محل دیگری از همان سند بصورت پراکنده بیان نموده است. کدام یک از گزینه های زیر ترتیب صحیح این روند را معرفی می نماید؟


- a - فشار کلیدهای Ctrl + V
- b - فشار کلیدهای Ctrl + C
- c - انتقال مکان نما به محلی که می خواهیم متن در آنجا کپی شود
- d - انتخاب متن مورد نظر

- (۱) d ← c ← b ← a
- (۲) c ← a ← b ← d
- (۳) a ← c ← b ← d
- (۴) b ← c ← a ← d



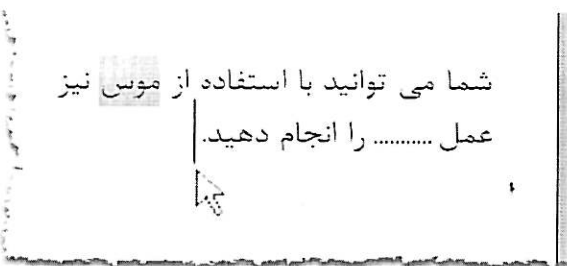
۲۷. همانطور که در شکل مقابل مشاهده می شود کلمه "موس" انتخاب شده است. Drag نمودن این کلمه در حالی که کلید Ctrl فشرده شده باشد، باعث انجام چه عملی خواهد شد؟
 (۱) کلمه موس را از متن حذف می نماید.
 (۲) از کلمه موس تا جایی که عمل Dragging خاتمه می یابد، انتخاب یا Select می شود.

- (۳) کلمه موس را از محل اولیه به محلی دیگر منتقل می نماید.
- (۴) کلمه موس را در محلی که عمل Dragging تمام می شود، کپی می کند.



۲۸. در برنامه Word بجای انتخاب آیکن نشان داده شده در شکل، کدام یک از دستورات زیر را می توان از Context منوی متن انتخاب نمود؟

- (۱) دستور Paste
- (۲) دستور Cut
- (۳) دستور Copy
- (۴) دستور Undo



۲۹. همانطور که در شکل مقابل مشاهده می شود، کلمه "موس" انتخاب شده است. Drag نمودن این کلمه باعث انجام چه عملی خواهد شد؟
 (۱) کلمه موس را از محل اولیه به محلی دیگر منتقل می نماید.
 (۲) از کلمه موس تا جایی که عمل Dragging خاتمه می یابد، انتخاب یا Select می شود.

- (۳) کلمه موس را از متن حذف می نماید.
- (۴) کلمه موس را در محلی که عمل Dragging تمام می شود، کپی می کند.

۳۰. کدام یک از گزینه های زیر در رابطه با پوشه یا Folder صحیح است؟
 (۱) Folder فضایی است که به صورت مجازی در حافظه های جانبی ساخته می شوند و می توان به وسیله آنها فایل های برنامه های مختلف را به صورت مجزا از یکدیگر نگهداری نمود.
 (۲) با استفاده از Folder به سادگی می توان به فایل های یک برنامه دسترسی پیدا نمود.
 (۳) با استفاده از Folder می توان از حذف فایل های هم نام جلوگیری نمود.
 (۴) تمام موارد فوق صحیح است.